



*Scrúdú na hArdteistiméireachta*

# *Teicneolaíocht*

## *Gnáthleibhéal*

*Páipéar Samplach*

*Fad 2:00 uair an chloig*

Tá trí Roinn sa pháipéar seo. Tabhair faoi **gach** Roinn díobh.

**Roinn A:** Croíchúrsa - Ceisteanna gearrfhreagra.

**Roinn B:** Croíchúrsa - Ceisteanna fadfhreagra.

**Roinn C:** Roghanna - Ceisteanna fadfhreagra.

### *Roinn A - Croíchúrsa (72 marc)*

*Treoracha:*

- (a) Freagair **naoi gceist ar bith** sna spasanna atá ann dóibh. Tá 8 marc ag gabháil le gach ceist i Roinn A.
- (b) Tarraing na sceitsí go léir le peann luaidhe.
- (c) Tabhair ar ais an leabhrán seo ag deireadh an scrúdaithe.
- (d) Scríobh do scrúduimhir sa bhosca atá ann di agus ar gach leathanach eile a úsáideann tú.

Uimhir an Ionaid

Roinn	Marc
Roinn A	
Roinn B	
Roinn C	
Móriomlán	
Grád	

*Scrúduimhir:*

**Roinn A.** Freagair naoi gceist ar bith. Tá 8 marc ag gabhail le gach ceist.

1. Taispeánann an ghrafaic citeal leictreach. Liostaigh trí riachtanais fheidhmiúla atá ar chiteal leictreach.

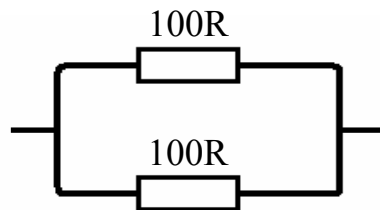
1: \_\_\_\_\_  
\_\_\_\_\_  
2: \_\_\_\_\_  
\_\_\_\_\_  
3: \_\_\_\_\_  
\_\_\_\_\_



2. Ríomh an fhriotaíocht iomlán (**R**) sna comhghléasanna friotaíochta seo a leanas:



R = \_\_\_\_\_



R = \_\_\_\_\_

3. Luaigh dhá thoisc nach mór a chur san áireamh nuair a bhíonn ábhar á roghnú le haghaidh chásáil **A** den phreabshábh a thaispeántar.

1: \_\_\_\_\_  
\_\_\_\_\_  
2: \_\_\_\_\_  
\_\_\_\_\_

Bunaithe ar na tosca atá luaite thuas, mol ábhar oiriúnach le haghaidh chásáil **A** den phreabshábh.

Ábhar: \_\_\_\_\_



4. Taispeánann na grafaicí na siombailí do lasc SPST agus do lasc DPDT.



(i) Cad dó a seasann SPST agus DPDT?

SPST: \_\_\_\_\_

DPDT: \_\_\_\_\_

(ii) Luaigh úsáid amháin a bhaintear as gach ceann de na lasca.

SPST: \_\_\_\_\_

DPDT: \_\_\_\_\_

5. Taispeánann an ghrafaic rothar rásaíochta.

Ainmnigh ábhar oiriúnach le haghaidh fráma rothair dá leithéid a dhéanamh.

Ábhar: \_\_\_\_\_

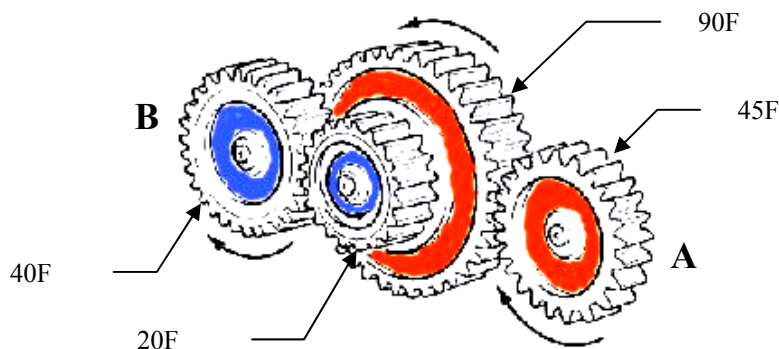


Luaigh airí amháin den ábhar a dhéanann oiriúnach don fhráma é.

Airí: \_\_\_\_\_

\_\_\_\_\_

6. Ríomh luas ghiar B más é luas an ghiar thiomána A ná 100 rev/min.



Ríomh :

Luas ghiar B:

\_\_\_\_\_

7.

Luaigh dhá bhealach inar féidir le cairt Gantt cabhrú le mac léinn tionscadal scoilbhunaithe a bhainistiú.

1. \_\_\_\_\_

\_\_\_\_\_

2. \_\_\_\_\_

\_\_\_\_\_

8.

Ainmnigh dhá fheiste ionchuir ríomhaireachta agus dhá fheiste aschuir ríomhaireachta.

Feiste ionchuir 1	
Feiste ionchuir 2	

Feiste aschuir 1	
Feiste aschuir 2	

9.

Bíonn an tsiombail atá tugtha le feiceáil ar thaobh buidéal plaisteach i gcomhair deochanna.

Luaigh píosa amháin faisnéise faoin bplaisteach a chuireann an tsiombail in iúl.

\_\_\_\_\_

\_\_\_\_\_

\_\_\_\_\_

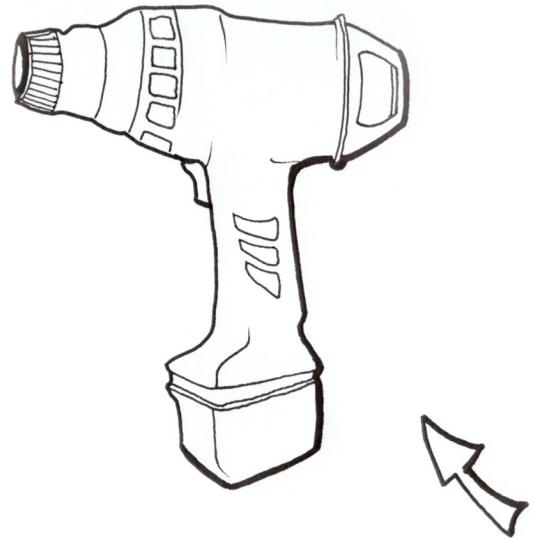


10.

Taispeánann an sceitse druilire gan sreang.

Déan an sceitse a rindreáil i ndathanna cuí nuair atá an solas sa treo ina bhfuil an tsaighead a thaispeántar.

Ba cheart go gcuirfeadh an rindreáil in iúl na hábhair as a bhfuil an druilire déanta.



11. Taispeánann an tábla thíos na siombailí do dhá chomhbhall leictreonacha. Ainmnigh na comhbhaill agus luaigh feidhm oiriúnach a bhaintear as gach ceann díobh.

Siombail	Comhbhall	Feidhm

12. Míne na giorrúcháin AC agus DC mar a bhaineann le leictreachas.

AC \_\_\_\_\_ DC \_\_\_\_\_

Luaigh sampla den úsáid a bhaintear as gach ceann díobh.

AC: \_\_\_\_\_

DC: \_\_\_\_\_

**Leathanach  
Bán**

**Leathanach  
Bán**

**Leathanach  
Bán**